

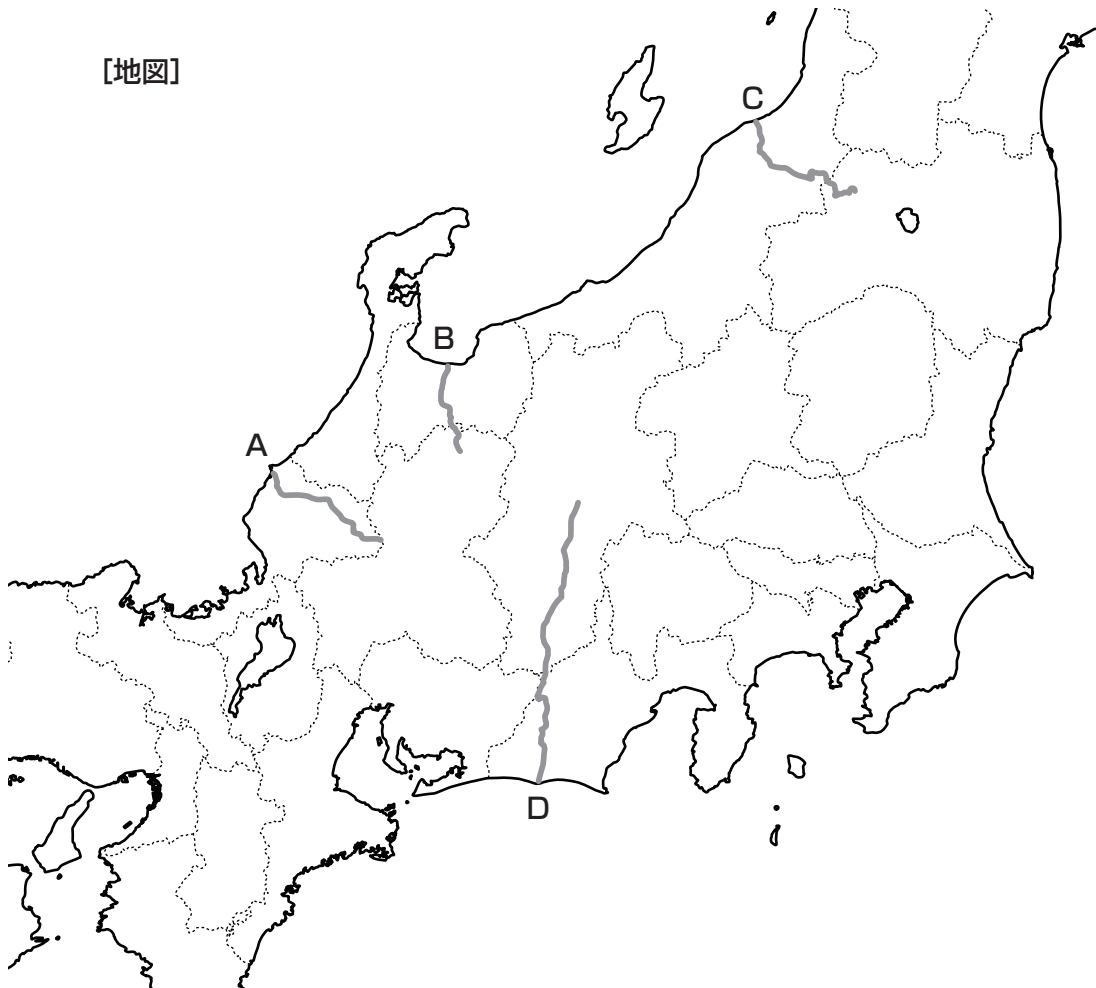
- 1 次の【年表】は、第二次世界大戦後の日本や世界における環境問題に関する代表的な出来事を示したものです。これを見て、あとの問いに答えなさい。

【年表】

1955年	(ア) 神通川流域におけるイタイイタイ病が、学会において報告される
1956年	(イ) 熊本県において発生した (ウ) 病が確認される
1965年	(エ) 新潟県において第二 (ウ) 病が発生したと発表される
1967年	四日市ぜんそくに関わる訴訟が起こされる
1971年	環境庁が設置された
1992年	国連環境開発会議が ^{かいざい} 開催される
1993年	環境基本法が制定される
1997年	(オ) 環境アセスメント法が制定される
2002年	南アフリカ共和国において環境開発サミットが ^{かいざい} 開催される
2015年	フランスにおいて気候変動枠組み条約第21回締約国会議が ^{ていやく} 開催される


- 問1 【年表】中の(ア)の位置を、次の【地図】中のA～Dの中からひとつ選んでアルファベットで答えなさい。

【地図】



問2 [年表] 中の(イ)に関連して、次の[資料]は、いちご、すいか、なすの都道府県別の生産量の割合(2015年)を示したものです。X～Zと農作物の組み合わせとして正しいものを、次のA～Fの中からひとつ選んでアルファベットで答えなさい。

[資料]



(『日本国勢図会2017/18年版』より作成)

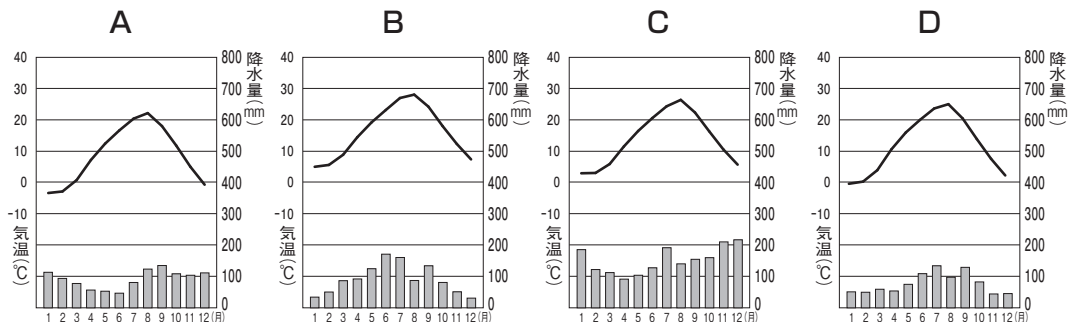
- | | | | |
|---|-------|-------|-------|
| A | X—いちご | Y—すいか | Z—なす |
| B | X—いちご | Y—なす | Z—すいか |
| C | X—すいか | Y—いちご | Z—なす |
| D | X—すいか | Y—なす | Z—いちご |
| E | X—なす | Y—いちご | Z—すいか |
| F | X—なす | Y—すいか | Z—いちご |

問3 [年表] 中の空欄(ウ)にあてはまる語句を漢字2字で答えなさい。

問4 [年表] 中の(工)に関連して、(1)・(2)それぞれの問いに答えなさい。

(1) 次の[資料]は、各県庁所在地の月別平均気温と降水量を示したものです。新潟市について示したものを、[資料]中のA～Dの中からひとつ選んでアルファベットで答えなさい。

[資料]



(『理科年表 平成29年』より作成)

(2) 新潟県で生産されている伝統的工芸品としてふさわしいものを、次のA～Dの中からひとつ選んでアルファベットで答えなさい。

A 輪島塗 B 越前和紙 C 益子焼 D 十日町がすり

問5 【年表】中の(オ)について、「環境アセスメント」とは何ですか。文章で説明しなさい。

2 次の文章を読んで、あとの問いに答えなさい。

諸説ありますが、日本列島に (ア) 稲作が伝来したとされるのは2000年以上前であると考えられています。その後、渡来人によってさまざまな技術がもたらされ、その技術によって稲作はさらに発展したと思われます。

律令制が整えられるなかで、民衆は口分田^{あた}を与えられることになりました。しかし、口分田からの収穫^{しゅうかく}の約3%程度にあたる稲を租として地方の役所に納めたほか、さまざまな税や労役を課されたため、民衆の生活は苦しいものでした。

(イ) 鎌倉時代の後半になると、主に畿内とその周辺部を中心に、農業の発展が広くみられ、新たな農業技術もとり入れられました。畿内とその周辺部では「村」が自然発生的に生まれ、自治をおこなうようになりました。このような「村」を **(ウ)** とよびます。**(ウ)** では、村民たちが寄合^{おきて}という村民会議を開き、自分たちが守るべき掟^{おきて}をつくりました。

江戸時代になると、幕府や各藩は、米の生産を増加させるため、新田開発^{さか}を盛んにおこないました。18世紀前半に幕府財政のたて直しを図った徳川吉宗は、「米公方」^{くぼう}として知られています。一方で、享保期は大規模な飢饉^{ききん}が起こった時期でもあります。(エ) 以降も何度か飢饉^{ききん}が起こっており、百姓のなかには生活が苦しくなる者もいました。

明治政府は財政の安定をめざして地租改正をおこない、土地や税に関する制度が大きく変わりました。これに不満をもった民衆たちは、各地で地租改正に反対する一揆^{いぎ}を起こしました。

第一次世界大戦の影響^{えいきょう}を受けた、日本経済の発展にともなう都市人口の増加などによって、米価が上昇^{じょうしょう}しました。1918年に全国で多くの都市や町村をまきこんだ「(オ) ある事件」には、こうしたことが背景としてあったのです。政府は軍隊を出動させて事態^{しじょうじゅう}を収拾^{しゅうしゅう}しましたが、この事件は当時の国内政治にも大きな影響^{えいきょう}を与えました。

太平洋戦争後、GHQは、日本が侵略戦争^{しんりやく}への道を歩むことになった一因が、多くの農民が小作農として地主に重い小作料を納めていたためであると考え、**(カ)** を実行しました。

問1 下線部 (ア) について述べた文として誤っているものを、次のA～Dの中からひとつ選んでアルファベットで答えなさい。

- A 縄文時代の終わり頃の遺跡から、水田の跡^{あと}が出土した。
- B 稲作は、日本の各地に広まり、奈良時代に現在の青森県に達した。
- C 弥生時代の銅鐸^{だっこく}には、脱穀^{だつこく}の様子が鑄出^{いだ}されているものがある。
- D 弥生時代前期の稲の収穫^{しゅうかく}には、石包丁が使用された。

問2 下線部(イ)について述べた文として正しいものを、次のA～Dの中からひとつ選んでアルファベットで答えなさい。

- A 耕地を深く耕することができる備中ぐわが普及した。
- B 稲を刈りとった後に麦を作る二期作が広まった。
- C 牛馬を利用した農耕が広まった。
- D 臼と杵を用いての脱穀がおこなわれるようになった。

問3 空欄(ウ)にあてはまる語句を、次のA～Dの中からひとつ選んでアルファベットで答えなさい。

- A 郡
- B 郷
- C 惣
- D 里

問4 下線部(工)に関連して、天明の飢饉が起きた一因として最もふさわしいものを、次のA～Dの中からひとつ選んでアルファベットで答えなさい。

- A 浅間山の噴火
- B 明暦の大火
- C 大塩平八郎の乱
- D 島原の乱

問5 下線部(オ)が起きた一因として最もふさわしいものを、次のA～Dの中からひとつ選んでアルファベットで答えなさい。

- A シベリア出兵
- B 三国干渉
- C 甲午農民戦争
- D 五・四運動

問6 空欄(カ)にあてはまる政策を漢字4字で答えなさい。

3 次の文章は、平成29年度の川崎市の市長による施政方針からの一部抜粋です。これを読んで、あとの問いに答えなさい。なお、一部ふりがなをつけたり省略したりした部分があります。

昨年を振り返りますと、リオデジャネイロ オリンピック・パラリンピックにおける日本選手団の活躍など明るいニュースがあり、目標に向かってチャレンジする姿勢に感動いたしました。

(中略)

世界の動きに目を向けますと、英国の(ア)離脱や、新しいアメリカ大統領の就任など、我が国をはじめ、国際社会・経済に影響を及ぼす出来事がありました。世界の景気は、アジアの一部に弱さが見られるものの、全体としては緩やかな回復傾向にあります。引き続き、世界の政治・経済の動きによる影響を注視してまいります。

国内の景気につきましても、緩やかに回復していくことが期待されておりますが、海外経済の不確実性や為替相場など、国際金融情勢等の変動による影響に留意してまいります。

また、(イ)消費税率引上げが延期されたことにより、(ウ)社会保障の充実に向けた財源確保に影響が出ることが想定されております。

国においては、(エ)女性や若者の活躍を進め、誰もが生きがいを感じられる社会の実現に向けた取組が進められているところでございますが、市民の暮らしを支える中心的な役割を担うのは、(オ)地方自治体でございます。このことを踏まえ、市民生活への影響を最小限にするよう努めるとともに、各圏域における社会活動や経済活動の中心的な存在である大都市の役割にも配慮した、政策の実行を強く望むところでございます。

我が国の人口が減少するなか、本市では予測を上回る人口増が続き、平成29年度中には、150万人に達する見込みとなっており、特に若い世代の方々に「選ばれる都市」として進化を続けております。

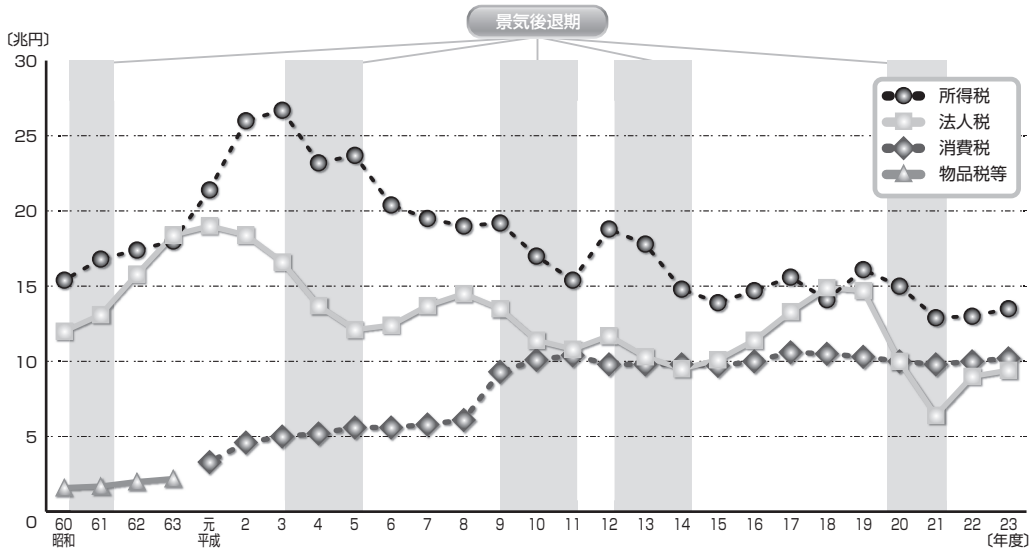
(中略)

川崎をさらに一歩先へと進めるためには、本市の持つポテンシャルを積極的に活用するとともに、市民、企業、地域で活動する団体の皆様など、多くの方々の力が必要です。議会や市民の皆様の御意見を広くお聴きし、さまざまな場面で御参加いただきながら、全力で市政運営に取り組んでまいります。

問1 空欄(ア)にあてはまる語句を、アルファベット2字で答えなさい。

問2 下線部(イ)に関連して、日本の主な税収としては、現在、所得税・法人税・消費税などがあります。次の【資料】は、各年度決算額の一般会計税収の推移を示したものです。この【資料】を参考に、日本の税収について述べた文として誤っているものを、次のA～Dの中からひとつ選んでアルファベットで答えなさい。

【資料】



(財務省ホームページより)

- A 法人税による税収は、世界金融危機の影響を受けて、平成20年度以降に大きく落ち込んでいる。
- B 所得税による税収は、バブル期の好景気を受けて、平成3年度に最大となった。
- C 消費税による税収は、景気が悪くても人々は消費活動を続けるため、不景気のときでもそれほど変化していない。
- D 消費税による税収は、税率が8%となった平成9年度以降増大している。

問3 下線部(ウ)に関連して、日本国憲法第25条の条文中の空欄 X にあてはまる語句を漢字で答えなさい。

国は、すべての生活部面について、社会福祉、社会保障及び X の向上及び増進に努めなければならない。

問4 下線部(エ)に関連して、2017年現在、女性が首相もしくは大統領に就任したことのない国を、次のA～Dの中からひとつ選んでアルファベットで答えなさい。

- A イギリス
- B ドイツ
- C 大韓民国
- D アメリカ合衆国

問5 下線部(オ)に関連して、(1)・(2)それぞれの問いに答えなさい。

(1) 下線部(オ)の仕事としてふさわしくないものを、次のA～Dの中からひとつ選んでアルファベットで答えなさい。

- A 政令を制定する。 B 上下水道を整備する。
C 公民館を設立する。 D ゴミの収集・処理をする。

(2) 下線部(オ)の住民に認められている直接請求権の行使の事例としてふさわしくないものを、次のA～Dの中からひとつ選んでアルファベットで答えなさい。

- A 首長が汚職^{おしよく}事件に関わったことが明らかとなったため、選挙管理委員会に首長の解職を求める。
B 首長の海外出張にかかる経費の支出が適正なものであったか、監査委員に調べることを求める。
C 不当な判決を出したため、地方裁判所の裁判官の解職を首長に求める。
D 樹木を増やし、住みよい都市づくりを進めるための条例の制定を首長に求める。

